

# ИТОГОВАЯ РАБОТА ПО МАТЕМАТИКЕ ДЛЯ 1 КЛАССА

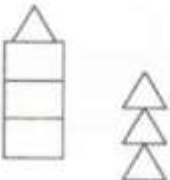
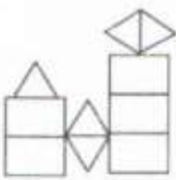
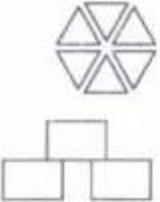
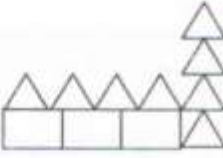
(2013/2014 учебный год)

## Вариант 1

Школа \_\_\_\_\_ Класс 1 \_\_\_\_\_

Фамилия, имя \_\_\_\_\_

1. Для составления какой картинки использовано самое большое число треугольников? Отметь ответ .

			
<input type="checkbox"/>	<input type="checkbox"/>	<input type="checkbox"/>	<input type="checkbox"/>

2. Рассмотрй рисунок.



Запиши в таблице числа.

Нарисованы	Число
Белые кролики	—
Черные кролики	—
Всего	—

3. Выполни действия. Отметь ответ .

$$10 - 1 - 4$$

10

9

6

5

4. Выполни действие. Запиши ответ.

$$9 - 7 = \underline{\quad}$$

$$2 + 6 = \underline{\quad}$$

5. Таня записала числа по порядку от 17 до 11 так:

17, 16, 15, 14, 12, 11.

Какое число она пропустила?

Ответ:                     

6. Лена нарисовала отрезок длиной 6 см. Коля нарисовал отрезок на 2 см короче, чем отрезок Лены. Какой длины отрезок нарисовал Коля?

Выбери верную запись решения. Отметь ответ .

$6 + 6 = 12$  (см)

$6 - 4 = 2$  (см)

$6 + 2 = 8$  (см)

$6 - 2 = 4$  (см)


7. Найди фигуру, которая расположена между квадратом и треугольником. Отметь ответ .




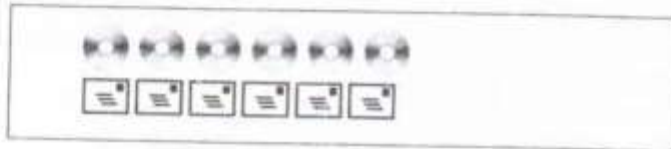
8. Оля взяла из вазы 6 яблок, Дима взял оставшиеся 3 яблока. Сколько яблок было в вазе? Запиши решение.




9. На каком рисунке дисков на 3 больше, чем конвертов? Отметь ответ .









10. Из чисел 7, 9, 98, 90, 88, 99 выпиши числа, в записи которых есть цифра 9.

Ответ:

--	--	--	--	--	--	--	--	--	--	--	--	--	--	--

11. У Мити есть 8 рублей. Он хочет купить как можно больше разных наклеек на эти деньги.

Сколько всего наклеек он может купить?

Какие это наклейки? Запиши их названия.

Машина



4 рубля

Слон



3 рубля

Мяч



6 рублей

Сова



1 рубль

Всего наклеек \_\_\_\_\_,

их названия \_\_\_\_\_

12. Представь число 9 в виде суммы двух чисел так, чтобы первое число было меньше второго. Запиши четыре решения.

Решение 1: \_\_\_\_\_

Решение 2: \_\_\_\_\_

Решение 3: \_\_\_\_\_

Решение 4: \_\_\_\_\_

13. Ребята играли на компьютере. В каждой игре побеждает тот, кто заработает больше очков. В таблице указано, сколько очков заработал каждый игрок.

Дети	Игры	
	«Океан»	«Глобус»
Ира	4	5
Жора	7	2
Вера	4	1
Тимур	3	2

- а) Кто выиграл в игре «Глобус»?  
Ответ: \_\_\_\_\_
- б) Сколько всего очков заработали все ребята в игре «Глобус»?  
Ответ: \_\_\_\_\_
- в) В какой игре мальчики заработали больше очков, чем девочки?  
Ответ: \_\_\_\_\_

14. В поход к озеру отправились Гена, два его друга, Маша, Оля, а также брат Маши Витя и пёс Вити – Бим.

Сколько всего мальчиков отправились в поход?

Запиши ответ и решение.

Ответ: \_\_\_\_\_

Решение:

--	--	--	--	--	--	--	--	--	--	--	--	--	--	--	--	--	--	--	--	--	--	--

