

ИТОГОВАЯ РАБОТА ПО МАТЕМАТИКЕ ДЛЯ 1 КЛАССА

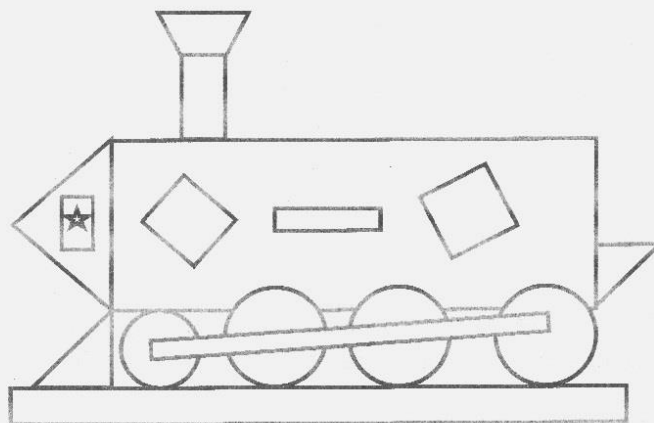
(2015/2016 учебный год)

Вариант 2

Школа _____ Класс 1 _____




Фамилия, имя _____

1. Сколько на рисунке четырёхугольников?




Ответ: _____ четырёхугольников

2. На столе лежат четыре нитки с бусинами. Выбери одну нитку, на которой больше восьми бусин. Отметь ответ



7. Дорисуй картинку так, чтобы у домика была четырёхугольная крыша.



8. Ответь на вопросы.





Вопрос	Ответ
Сколько кошек?	_____
На сколько меньше собак, чем кошек?	на _____

9. Ира и Света посадили 8 кустов малины. Ира посадила 3 куста. Сколько кустов посадила Света?

Ответ: _____

10. Нарисуй ,  и  так, чтобы

 был слева от , а

 был под .

11. Петя нарисовал шарики и половину раскрасил. Он не раскрасил вот столько шариков.



- а) Сколько шариков нарисовал Петя? Ответ: _____
б) Сколько шариков Петя раскрасил? Ответ: _____

12. В театр решили пойти 4 девочки. К ним присоединились ещё 2 мальчика и Катя из 5 класса. Сколько детей решили пойти в театр? Отметь все верные решения задачи .

- $4 + 2$
 $4 + 5 + 1 + 2$
 $4 + 2 + 5$
 $4 + 2 + 1$
 $4 + 1 + 2$

13. Три мальчика решали задачи. Каждый решил по 7 задач. В таблице показано, какие задачи решены верно и какие неверно.

Верно «+»

Неверно «—»

Результаты решения задач

	№1	№2	№3	№4	№5	№6	№7
Ваня	+	—	+	+	+	—	—
Гена	—	—	+	+	+	+	+
Коля	+	—	+	—	+	—	—

- а) Кто из мальчиков решил верно 4 задачи? Запиши имя.
Ответ: _____
б) Кто из мальчиков неправильно решил меньше всех задач? Запиши имя.
Ответ: _____

14. Нине 5 лет, Игорю 7 лет. Сколько лет будет Нине, когда Игорю будет 8 лет?

Запиши ответ и объясни его.

Ответ: _____ лет

Объяснение: _____

ИТОГОВАЯ РАБОТА ПО МАТЕМАТИКЕ ДЛЯ 1 КЛАССА


(2015/2016 учебный год)

Вариант 1

Школа _____ Класс 1 _____


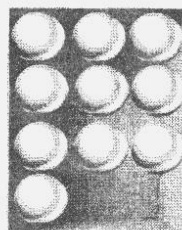
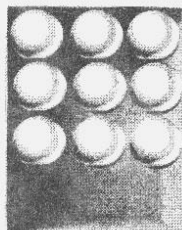
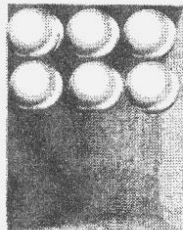
Фамилия, имя _____

1. Сколько на рисунке четырёхугольников?

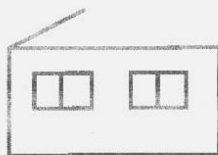


Ответ: _____ четырёхугольников

2. Дети разложили шарики в разные коробки. Выбери одну коробку, в которой больше девяти шариков. Отметь ответ .



7. Дорисуй картинку так, чтобы у домика была четырёхугольная крыша.



8. Ответь на вопросы.





Вопрос	Ответ
Сколько собак?	_____
На сколько меньше кроликов, чем собак?	на _____

9. Лена и Катя принесли в школу 9 кукол. Лена принесла 6 кукол. Сколько кукол принесла Катя?

Ответ: _____

10. Нарисуй ,  и  так, чтобы

 был над , а

 был справа от .

11. Маша нарисовала кубики и половину раскрасила. Она не раскрасила вот столько кубиков.



- а) Сколько кубиков нарисовала Маша? Ответ: _____
 б) Сколько кубиков она раскрасила? Ответ: _____

12. На столе лежат 5 картофелин. Гриша положил рядом морковь, 2 свёклы и 3 яблока. Сколько овощей стало на столе? Отметь все верные решения задачи .

- $5 + 2 + 3$
 $5 + 1$
 $5 + 1 + 2$
 $5 + 3 + 2 + 1$
 $5 + 2 + 1$

13. Три девочки стреляли из лука. Каждая сделала по 7 выстрелов. В таблице показано, сколько раз они попали в цель и не попали в цель.

Попала «+»
 Не попала «—»

Результаты

	№1	№2	№3	№4	№5	№6	№7
Вера	+	+	+	—	—	—	—
Оля	—	—	+	+	+	+	+
Сима	—	—	—	—	+	+	—

- а) Кто из девочек попал 3 раза? Запиши имя.
 Ответ: _____
 б) Кто из девочек промахнулся больше всех? Запиши имя.
 Ответ: _____

14. Вите 6 лет, Соне 4 года. Сколько лет будет Вите, когда Соне будет 7 лет?

Запиши ответ и объясни его.

Ответ: _____ лет

Объяснение: _____