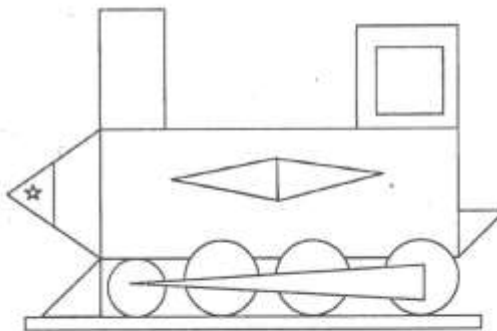


ИТОГОВАЯ РАБОТА ПО МАТЕМАТИКЕ ДЛЯ 1 КЛАССА
(2014/2015 учебный год)
Вариант 2

Школа _____ Класс 1 _____

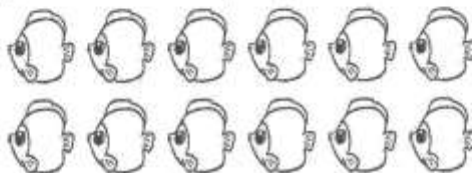
Фамилия, имя _____

1. Сколько треугольников на рисунке?



Ответ: _____

2. Васе нужно раскрасить 12 рыбок. Он раскрасил 7 рыбок. Сколько рыбок осталось раскрасить?



Ответ: _____ рыбок

3. У Веры было 8 тетрадей. Сестра купила ей ещё 5. Сколько тетрадей стало у Веры?



Отметь .

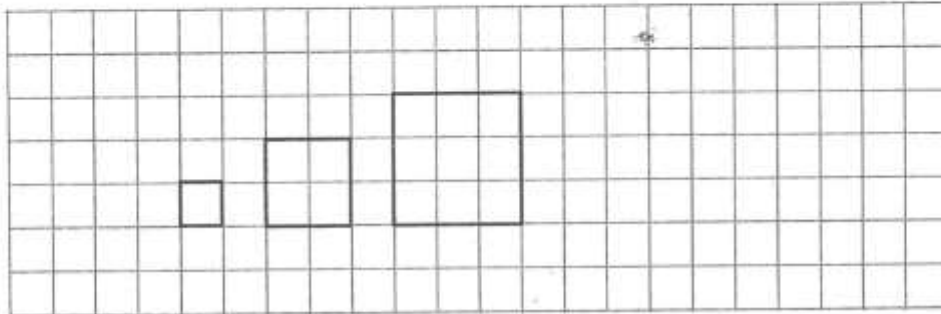
8

12

13

14

8. Дина рисует квадраты по правилу. Угадай правило и нарисуй следующий квадрат.



9. На урок труда дети принесли шишки и листья. Сколько шишек принёс Миша?

	Шишки	Листья
Миша		
Рита		

Ответ: ____ шишек

10. Выбери число, которое на 4 меньше, чем 10. Отметь .


14

7

6

5

11. Для ответа на какие вопросы к рисунку нужно выполнить вычитание? Отметь .



На сколько больше яблок, чем груш?

Сколько всего фруктов?


Сколько станет фруктов, если положить апельсин?

На сколько меньше груш, чем яблок?

12. На прогулку собрались Петя, два его друга, Катя, Оля, брат Кати и пёс Пети — Рэм. Сколько мальчиков собрались на прогулку?

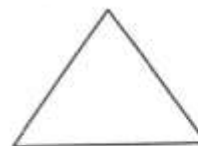
Запиши решение и ответ.

Решение:



Ответ: _____ мальчика

13. Рассмотри фигуры.



Верно ли, что

А) все фигуры – треугольники? Отметь .

да

нет

Б) у всех фигур есть углы? Отметь .

да

нет

В) прямоугольник расположен слева от треугольника? Отметь .

да




нет

14. Эти машинки нужно разложить в три коробки так, чтобы в первой коробке была ровно одна машинка. Сколько машинок нужно положить в каждую коробку?



Одно решение уже записано. Запиши другие.



			
Решение 1	1	7	1
Решение 2			
Решение 3			
Решение 4			
Решение 5			
Решение 6			
Решение 7			